






MASSE	Séquence 1	Séance 2
CE1	TRACE ÉCRITE AVEC CONCLUSION	

	<p>Quelle est la bouteille la plus lourde ?</p> <p>Chaque groupe d'élèves a une bouteille de masse différente. Les deux bouteilles pèsent entre 4 et 5 pavés alors qu'elles n'ont pas la même masse.</p>	
		
	<p>La bouteille G pèse</p> <p>La bouteille H pèse</p>	
	<p>La bouteille est plus lourde que la bouteille</p>	
	<p>On peut utiliser plusieurs étalons différents pour peser un objet :</p> <ul style="list-style-type: none"> • Il faut commencer avec un étalon de grande masse jusqu'à ce que la balance bascule. • Quand elle bascule, il faut en enlever un. • Il faut finir avec un étalon plus léger jusqu'à l'équilibre, pour être précis.. 	